



Marie



Attie



Dino



Amie Pietie



Markus



Linda



Jana



Lee



Tiaan

Hoeveelste staan elke kind in die ry?

1. Linda is _____.

2. Pietie is _____.

3. Lee is _____.

4. Tiaan is _____.

5. Dino is _____.

6. Marie is _____.

7. Attie is _____.

8. Markus is _____.











9. Jana is _____.

10. Amie is _____.

*Wie staan laaste? _____.

eerste	tweede	derde	vierde	vyfde	sesde	sewende	agste	neënde / negende	tiende
--------	--------	-------	--------	-------	-------	---------	-------	------------------	--------



driehoek	vierkant	sirkel	reghoek	ovaal	diamant	kubus	sfeer	pyl	keël
									



Watter vorm staan...?

<input type="checkbox"/> Eerste:	<input type="checkbox"/> Derde:
<input type="checkbox"/> Vierde:	<input type="checkbox"/> Vyfde:
<input type="checkbox"/> Agste:	<input type="checkbox"/> Tweede:
<input type="checkbox"/> Sesde:	<input type="checkbox"/> Sewende:
<input type="checkbox"/> Tiende:	<input type="checkbox"/> Neënde:

Pas die woorde by hierdie skryfwyses. Kleur die bostaande (boonste) woorde se blokkies met dieselfde kleure as die onderste blokkies in. (bv. Eerste en 1ste = blou)

1ste	2de	3de	4de	5de	6de	7de	8ste	9de	10de
------	-----	-----	-----	-----	-----	-----	------	-----	------

